

D.A.V PUBLIC SCHOOL

DVC MTPS, BANKURA, 722183 (W.B.)

Summer Holiday Homework

Session-2025-26

CLASS-III



Subject- English

1. During your visit to the zoo, you saw many different animals living in different enclosure. Now describe-
 - i) How zoo takes care of these animals?
 - ii) Why is it important to protect animals and their natural habitat. Explain

(Use your scrap book to write the answers and also paste pictures of those animals.)

2. Look around your classroom or home and write the names of five people, five places, and five things you see.
(Paste their pictures along with the answers in your scrap book)
3. Draw and write a poster about “Kindness to Animals”. You are the member of the organisation ANIMALS AID UNLIMITED. Keep the poster within a box. And mention your organisation’s name also.
(To make the poster an attractive one use the colourful page of your scrap book)

SUBJECT:HINDI

1. नीचे दिए गए शब्दों का वाक्यों में प्रयोग कीजिए-

i) पेड़ ii)चिड़िया iii)पत्ता iv)हाथी

2. उलटे अर्थ वाले शब्द लिखिए-

i) दिन ii) सेवक iii)जीत iv)सूखा

3. नीचे दी गई शब्द-लड़ी को आगे बढ़ाइए-

मटका-> कागज -> _____ -> _____ -> _____ -> _____

4. नीचे दिए गए वाक्यों में से नाम वाले शब्दों को चुनकर लिखिए-

i) कछुआ धीरे-धीरे चलता है।

ii) रवि पढ़ रहा है।

iii) आम मीठा है।

5. दिए गए चित्रों को देखकर उसका बहुवचन रूप लिखिए -

i)



ii)



6. हाथी ने पेड़ उखाड़ कर सही किया या गलत ? क्यों ?

7. असहाय व्यक्तियों का मजाक उड़ाना बुरी बात है। इस पाठ में हाथी ने अपनी गलती मान ली। क्या हमें भी गलती करने पर माफ़ी माँग लेनी चाहिए या नहीं?

8. आप अपने आस-पास के पशु-पक्षियों की मदद कैसे कर सकते हैं?

9. कहानी में चोर घबराकर पेड़ पर चढ़ जाता है। यदि उसे पेड़ पर चढ़ना ना आता तो क्या होता ?

10. आप अपना जन्मदिन कैसे मनाते हैं ? आपके जन्मदिन पर आपकी माँ क्या-क्या बनाती हैं?

SUBJECT-BENGALI


১। সঠিক উত্তরটি বেছে নিয়ে লেখ:

ক) ‘প্রভাত’ কবিতায় কবি যে সময়ের সুন্দর বর্ণনা দিয়েছেন -

- i) বিকেলের ii) দুপুরের iii) সকালের iv) রাত্রে

খ) কবি ভোরবেলাতে পড়ায় মন দিতে বলেছেন কারণ-

- i) ভোরবেলা হল পড়ার সেরা সময়।
ii) এই সময় পাঠে মন দিলে বিকেলে আনন্দে থাকা যায়।
iii) (i) ও (ii) দুটিই সঠিক।
iv) (i) ও (ii) দুটিই ভুল।



গ) বাক্যগুলি ঘটনাক্রম অনুযায়ী সাজাও-

- a. পুজো বাটিতে জোর কাঠিতে বাজছে যেন ঢাক।
b. রাত পোহাল ফর্সা হল ফুটলো কত ফুল।
c. তাড়ি বগলে ছেলের দলে পাঠশালাতে যায়।
d. কানন হতে কচুরপাতে আনছে তুলে ফুল।



- i) d-c-b-a ii) b-a-d-c iii) d-b-c-a iv) a-d-c-b

ঘ) বিছানাপত্নার গুটিয়ে দাসীরা নাচ ঘরে এনে শুইয়েছিল কারণ-

- i) পাকা ছাদ ফুটো হয়ে জল পড়ছিল শোবার ঘরে।
ii) শোবার ঘরটিতে মেরামতির কাজ চলছিল।
iii) তারা নাচ দেখতে নাচ ঘরে এসেছিল।
iv) ঘরটিতে মশার উপদ্রব ছিল।

ঙ) ‘ফরসি’ শব্দটির অর্থ হল-

- i) ঢাক ii) তালপাতার বাঁশি iii) হুকো iv) গোরুর গাড়ি

চ) নিচের কোনটি বাগযন্ত্রের অংশ-

- i) অঙ্গুলি ii) হস্ত iii) উদর iv) কণ্ঠ

ছ) ‘গোলাপ’ -শব্দটিতে ধ্বনি আছে-



- i) দশটি ii) ছয়টি iii) চারটি iv) সাতটি

জ) 'বর্ষার দিনে' গল্পটিতে যে উৎসবের উল্লেখ আছে-

A vibrant, multi-armed statue of the Hindu goddess Durga. She has a fair complexion and is adorned with elaborate gold jewelry and a large, ornate crown. Her multiple arms hold various symbolic objects, including a trident (trishula), a conch shell (shankha), a lotus flower, and a bowl (kalash). The statue is set against a dark, textured background, possibly a wall or a backdrop.

A cartoon illustration of a young girl with black hair in a ponytail, wearing a pink and white sari, applying a red tilak to the forehead of a young boy with black hair, wearing a blue shirt and brown dhoti. They are sitting on a brown mat on the floor. In front of them is a plate of yellow sweets. A window with four panes is visible in the background.

৯) “ভাতে ভাত খিচুড়ি”-উক্তিটি করেছেন-

ii) দিব্য ঠাকুর

iv) শশী প্রামাণিক

ঞ) 'গৌরব' শব্দের বিপরীত অর্থের শব্দ হল-

ii) সম্মান

iv) গর্বিত

২) শূন্যস্থান পূরণ কর:

ক) আমরা বর্ষাকালে রথের সময় _____ ভেঁপু কিনে বাজাতুম।

খ) _____ গাড়ি চলল না আপিসের দিকে।

গ) কাঁপিয়ে পাখা নীল পতাকা জুটল _____।

ঘ) বৈকালেতে গৌরবেতে রবে _____।

ঙ) ধ্বনির লিখিত রূপ হল _____।

৩) বাম দিকের সাথে ডানদিকের মিল দেখাও:



বামদিক	ডানদিক
ক) যৌগিক স্বর	i) আ,ঈ
খ) দীর্ঘ স্বর	ii) ঐ,ঔ
গ) স্পর্শ বর্ণ	iii) শ,ষ
ঘ) উষ্ম বর্ণ	iv) ২৫ টি

৪) নিচের প্রশ্নগুলির উত্তর দাও:

ক) রাত পোহালেই কী হয় ? কারা এসে একজোট হয়?

খ) আগে মানুষ বর্ষার দিনে গোল পাতার ছাতা, শোলার টুপি ব্যবহার করত। এখন বৃষ্টির থেকে রক্ষা পেতে তোমরা কোন কোন জিনিস ব্যবহার কর।

গ) কাদের পুকুর ভেসে মাছ পালিয়েছে? মাছগুলি কারা ধরছে?

৫) নিচের প্রশ্নগুলির সংক্ষেপে উত্তর দাও:

ক) বর্ষার দিনে তোমার আশেপাশের পরিবেশের অবস্থা কেমন হয় তা লেখ।

খ) প্রভাত কবিতার ছেলেদের সঙ্গে তোমার বিদ্যালয়ে যাবার পদ্ধতিতে কী কী পার্থক্য আছে তা লেখ।

৬) নিচের চিত্রটিতে যে পশুটি দেখতে পাচ্ছ সেটির সম্পর্কে একটি অনুচ্ছেদ লেখ।



৭) 'লিখিশিখি' বইটিতে হাতের লেখা করবে(পৃষ্ঠা ৭-১২)।

প্রকল্প: লেখক অবনীন্দ্রনাথ ঠাকুরের লেখা 'বর্ষার দিনে' গল্পটি পড়ে আমরা দেখতে পাই যে ছেলেবেলায় লেখক মাটির জগন্নাথ মূর্তি বানিয়ে রথে চাপিয়ে টানতেন। তোমরা নিজের ইচ্ছামতো যে কোনো একটি মাটির জিনিস তৈরি করবে।(Soft clay/Artificial clay)

SUBJECT: MATHEMATICS

SECTION: A

1. Largest 4-digit number is _____.
 - a) 1000
 - b) 999
 - c) 9999
 - d) 0
2. Find the place value of 7 in 7,542?
 - a) 7000
 - b) 70
 - c) 700
 - d) 7
3. Add: $256 + 164$
 - a) 420
 - b) 320
 - c) 440
 - d) 340
4. Find the missing number: $___ + 47 = 100$
 - a) 43
 - b) 53
 - c) 63
 - d) 33
5. The value of $100 - 0$?
 - a) 0
 - b) 100
 - c) 10
 - d) 90

SECTION: B

6. **Compare the numbers using $<$, $>$ or $=$**
 - a) 7852 ____ 7582
 - b) 6001 ____ 6100
7. Form the greatest and smallest 4-digit number using the digits 3, 7, 3, 5 (no repetition allowed).
8. Add: $4573 + 3438$

SECTION: C

9. A library has 2,145 storybooks, 1,728 science books, and 996 math books. How many books are there in total?

10. Put appropriate number inside the box.

<div style="border: 1px solid black; border-radius: 10px; padding: 5px; display: inline-block;">14</div>	+	<div style="border: 1px solid black; border-radius: 10px; padding: 5px; display: inline-block; width: 40px; height: 40px;"></div>	=	<div style="border: 1px solid black; border-radius: 10px; padding: 5px; display: inline-block; width: 40px; height: 40px;"></div>
+		+		+
<div style="border: 1px solid black; border-radius: 10px; padding: 5px; display: inline-block; width: 40px; height: 40px;"></div>	+	<div style="border: 1px solid black; border-radius: 10px; padding: 5px; display: inline-block;">26</div>	=	<div style="border: 1px solid black; border-radius: 10px; padding: 5px; display: inline-block; width: 40px; height: 40px;"></div>
=		=		=
<div style="border: 1px solid black; border-radius: 10px; padding: 5px; display: inline-block;">32</div>	+	<div style="border: 1px solid black; border-radius: 10px; padding: 5px; display: inline-block; width: 40px; height: 40px;"></div>	=	<div style="border: 1px solid black; border-radius: 10px; padding: 5px; display: inline-block;">70</div>

11. Write the place value of 2 and 5 of the number 2,358 and add them.

12. Write the number 5,687 in expand form in two different ways.

SECTION: D

13. Answer the following questions

- a) Arrange in ascending order: 4225, 4532, 3634, and 5036.
- b) Arrange in descending order: 6063, 8935, 4563 and 7784.

PROJECT WORK :

Creating a simple abacus using readily available materials like popsicle sticks, pipe cleaners, and beads

SUBJECT-SCIENCE


- Prepare an observation diary in your lab activity copy for every Sunday of summer vacation and list out the following:
 - i) Three different sounds you hear.
 - ii) Three different objects/ pictures/ videos you watched
 - iii) Three different smells you inhale.
 - iv) Three different healthy and tasty foods you eat.
 - v) Three different feelings you feel with your skin.

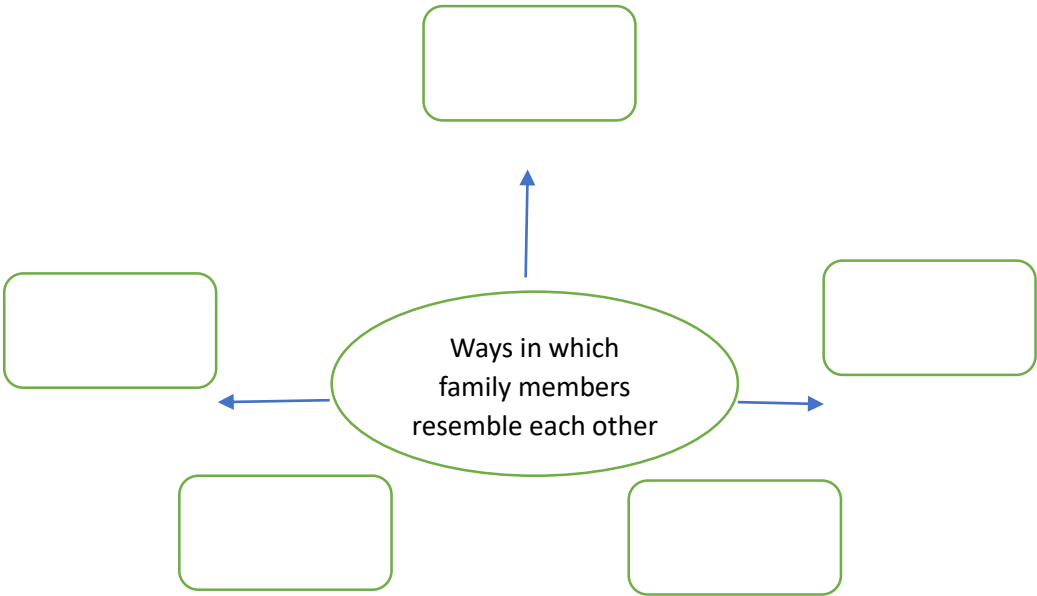
Also draw the sense organs you will use for the above given observations.

- Follow the given format for the given activity:

Date↓ Senses→	I heard	I watched	I smelled	I tasted	I felt
11/5/2025					
18/5/2025					
25/5/2025					
1/6/2025					
8/6/2025					

SUBJECT : SOCIAL SCIENCE

Q.NO.	QUESTION
1.	<p data-bbox="336 277 1347 315">Identify the famous monument built in the state of Telangana. Also</p>  <p data-bbox="336 882 868 920">name the city in which it is built in.</p>
2.	<p data-bbox="336 972 740 1010">Choose the correct option :</p> <ul style="list-style-type: none"><li data-bbox="485 1016 1059 1256">i. The famous sweet of Kolkata is<ul style="list-style-type: none"><li data-bbox="603 1070 804 1108">a. Son Papdi<li data-bbox="603 1120 836 1158">b. Gulabjamun<li data-bbox="603 1169 804 1207">c. Rosogulla<li data-bbox="603 1218 772 1256">d. Laddoo<li data-bbox="485 1267 1331 1559">ii. In the photograph, Tapas' father looked similar to him when he was<ul style="list-style-type: none"><li data-bbox="603 1366 868 1404">a. Two years old<li data-bbox="603 1415 868 1453">b. Five years old<li data-bbox="603 1464 916 1503">c. Twelve years old<li data-bbox="603 1514 884 1552">d. Seven years old<li data-bbox="485 1563 1378 1854">iii. Vishu's mother completed her schooling and college from<ul style="list-style-type: none"><li data-bbox="603 1662 788 1700">a. Gangtok<li data-bbox="603 1711 820 1749">b. Hyderabad<li data-bbox="603 1760 804 1798">c. Lucknow<li data-bbox="603 1809 820 1848">d. Kapurthala<li data-bbox="485 1865 948 2098">iv. Kashmiris drink a lot of<ul style="list-style-type: none"><li data-bbox="603 1910 740 1948">a. Lassi<li data-bbox="603 1960 836 1998">b. Jigarthanda<li data-bbox="603 2009 772 2047">c. Aamras<li data-bbox="603 2058 756 2096">d. Kehwa

3.	State the meaning of the word “Langar”. Name a place where you can visit and observe “Langar”.
4.	List two ways in which you can show love, care and respect towards your family members.
5.	“Family members share their joy and happiness together”. Give an example in support of the statement.
6.	Describe three ways which can be taken up to use the left-over food without throwing them in the dustbin.
7.	Suppose your grandfather becomes sick when nobody is there in the house. Mention some ways in which you can take care of him.
8.	<p>Read the passage carefully and answer the questions that follow:</p> <p>Riya is a student in Class III. She loves to eat fruits and vegetables. Her mother always tells her to eat a Balanced Diet to stay healthy. One day, Riya’s family visited the house of her mother’s parents in a village and saw many different types of fruits and vegetables growing there.</p> <p>Questions :</p> <ol style="list-style-type: none"> Mention the term used to refer the parents of your mother. List down two importance of having a “Balanced Diet”.
9.	Write the names of two famous personalities who followed the footsteps of their father or mother.
10.	<p>Complete the Web Chart given below:</p> 

	Map Based Work –
--	-------------------------

On a political map of India locate & label the following :

- a. The state where Sunita William's relatives live.
- b. The state where makki ki roti and sarson ka saag is the famous food.
- c. A state where you want to visit.
- d. A state where you will eat dosa-sambar as the famous food if you visit.
- e. A neighbouring state of West Bengal.
