

**D.A.V PUBLIC SCHOOL**

**DVC MTPS, BANKURA, 722183 (W.B.)**

# Summer Holiday Homework

Session-2025-26

**CLASS-IV**



## **SUBJECT: ENGLISH**


1. How did Rahul implement the Principal's advice at the very end of the story "A True Friend"?
2. Read the following sentences and underline the collective nouns, and frame five sentences using collective nouns of your own choice.
  - A pack of sheep was grazing in the fields.
  - A hunter carries a quiver of arrows.
  - The army marched forward towards the battlefield.
  - Can you pass me the bunch of keys?
  - Do you know about the cast of this movie?
3. Write F for feminine, M for masculine and C for common gender in the space provided.
  - a. There are twenty girls ( ) and fifteen boys ( ) in our class.
  - b. Mother ( ) loves her child ( ) selflessly.
  - c. John ( ) sat on a chair and looked at the teacher ( ).
  - d. Doctors ( ) should treat their patients ( ) nicely.
  - e. Dog ( ) is a faithful animal ( ).
4. Identify the gender, convert them into their opposite gender and rewrite the sentences.
  - a. The dog likes to go for a walk with its master.
  - b. The man works very hard for his daughter.
  - c. My father's mother is my grandmother.
  - d. The girl put the flowers for her niece in the pot.
  - e. My mother's brother is my uncle.
5. Write a letter to your friend, informing him or her how you have planned to spend your summer vacation.

## SUBJECT:HINDI

1. नीचे दिए गए वाक्यों में से संज्ञा शब्द छाँटकर लिखिए-

- i) रवि दिल्ली जा रहा है।
- ii) मीना पढ़ रही है।
- iii) बंदर पेड़ पर कूद रहा है।

2. नीचे दिए गए चित्रों से वाक्य बनाइए-



3. नीचे दी गई शब्द-तड़ी को आगे बढ़ाइए-

गिरगिट-> टमाटर -> \_\_\_\_\_ -> \_\_\_\_\_ -> \_\_\_\_\_

4. नीचे दिए गए वाक्यांशों के लिए एक शब्द लिखिए-

- i) जो लकड़ी का काम करे
- ii) सप्ताह में एक बार होने वाला

5. दो-दो पर्यायवाची शब्द लिखिए -

- i) पानी      ii) जंगल      iii) सूर्य

6. आप अपने दादा-दादी की मदद किस प्रकार करते हैं?

7. ऊपर की डाली से जब बंदर गिरता है तब वह क्या करता है ?

8. अगर सलोनी चुहिया होती तो हीरक को कैसे बचाती?

9. सच्चे मित्र की क्या पहचान होती है?

10. गाँधी जी ने मनु को पत्थर ढूँढ़कर लाने के लिए अकेले जाने को कहा।

i) उन्होंने मनु को अकेले क्यों भेजा था ?

ii) वह स्त्रियों को कैसा बनाना चाहते थे?

## SUBJECT - BENGALI

১। সঠিক বিকল্পটি বেছে নিয়ে লেখো :

ক) বাল্মীকি মুনিকে 'রামায়ণ' রচনা করতে বলেন-

- |              |             |
|--------------|-------------|
| i) মহাদেব    | ii) ব্রহ্মা |
| iii) ভরদ্বাজ | iv) রাম     |

খ) "ছেলেদের রামায়ণ" গ্রন্থটির রচয়িতা হলেন-

- |                        |                              |
|------------------------|------------------------------|
| i) বাল্মীকি মুনি       | ii) উপেন্দ্রকিশোর রায়চৌধুরী |
| iii) রবীন্দ্রনাথ ঠাকুর | iv) পাগল ঠাকুর               |

গ) তপোবনটি ছিল-

- |                     |                     |
|---------------------|---------------------|
| i) দামোদর নদীর ধারে | ii) গঙ্গা নদীর ধারে |
| iii) তমসা নদীর ধারে | iv) পদ্মা নদীর ধারে |

ঘ) পাঠ্য গদ্যে নিষ্ঠুর ব্যক্তিটি হলেন-

- |             |             |
|-------------|-------------|
| i) বাল্মীকি | ii) ভরদ্বাজ |
| iii) ব্যাধ  | iv) ব্রহ্মা |

ঙ) গুরুমশাই 'মাকাল' নাম দিয়েছিলেন-

- |                 |                    |
|-----------------|--------------------|
| i) রেগে গিয়ে   | ii) অন্যমনস্ক হয়ে |
| iii) কষ্ট পেয়ে | iv) খুশি হয়ে      |

চ) গুরুমশায়ের দেওয়া নামে রাখাল -

- |                    |                    |
|--------------------|--------------------|
| i) খুশি হয়েছিল    | ii) কষ্ট পেয়েছিল  |
| iii) রেগে গিয়েছিল | iv) বিরক্ত হয়েছিল |

ছ) রাখাল তার দাদাকে টেনে নিয়ে গিয়েছিল-

- |                  |               |
|------------------|---------------|
| i) খেলার মাঠে    | ii) নদীর ধারে |
| iii) পুকুর পাড়ে | iv) পাঠশালায় |

জ) অর্থবহ শব্দের সাথে বিভক্তিযুক্ত হয়ে তৈরি হয়-

- |          |           |
|----------|-----------|
| i) বাক্য | ii) শব্দ  |
| iii) পদ  | iv) ধ্বনি |

ঝ) সর্বনাম পদ কোন্ পদের পরিবর্তে ব্যবহার করা হয়?

i) বিশেষণ পদ

ii) ক্রিয়া পদ

iii) বিশেষ্য পদ

iv) অব্যয় পদ

ঞ) মাটি শব্দটি কী ধরনের বিশেষ্য পদ?

i) সংজ্ঞাবাচক বিশেষ্য

ii) ক্রিয়াবাচক বিশেষ্য

iii) বস্তুবাচক বিশেষ্য

iv) গুণবাচক বিশেষ্য

২। শূন্যস্থান পূরণ কর :

ক) ক্রিয়াবাচক বিশেষ্যের দ্বারা কোনো \_\_\_\_\_ নাম বোঝায়।

খ) দ্বিতীয় ভাগ শেষ করতে সারা \_\_\_\_\_ ধরে নাকাল,

গ) \_\_\_\_\_ কলম নিয়ে ছোট,

ঘ) লাইন টেনে লিখছে শুধু \_\_\_\_\_।

৩। ঘটনাগুলি ক্রম অনুযায়ী সাজাও।



ক) ব্যাধ এসে নিরীহ পাখিটিকে ✿ তির ছুঁড়ে মারল।

খ) বাল্মীকি মুনি নদীর ধারে বেড়াতে এলেন।

গ) ব্যাধকে বাল্মীকি মুনি অভিশাপ দিলেন।

ঘ) দুটি সুন্দর পাখিকে মনের আনন্দে খেলা করতে দেখলেন।

৪। প্রশ্নগুলির যথোপযুক্ত উত্তর দাও।

ক) "ব্যাধ আসিয়া পাখি দুটির পানে তির ছুরিয়া মারিল" - ব্যাধকে তোমার কেমন মানুষ বলে মনে হয়?

খ) রাখালকে দেখতে কেমন ছিল ?

গ) পাষান প্রতিমারও যে প্রাণ আছে তা শ্রীরামকৃষ্ণ কীভাবে প্রমাণ করলেন?

৫। সৎক্ষিপ্ত আকারে প্রশ্নগুলির উত্তর লেখো :

ক) শিক্ষক-শিক্ষিকা তোমায় 'মাকাল' বলে ডাকলে তোমার কেমন লাগবে?

খ) তোমার চারপাশের পশুপাখিদের প্রতি তোমার কেমন আচরণ হওয়া উচিত?

৬।



ছবিগুলি দেখে কোন্ ঋতুর কথা তোমাদের মনে হচ্ছে? সেই ঋতু সম্পর্কে কয়েকটি বাক্য লেখো।

৭। পদের শ্রেণিবিভাগটি scrapbook - য়ে সুন্দরভাবে উপস্থাপন করো।

## SUBJECT: MATHEMATICS

### SECTION: A

1. Successor of 599,999 is \_\_\_\_\_.  
A. 599,998  
B. 599,997  
C. 600,000  
D. 699,999
2. Smallest 6-digit number is \_\_\_\_\_.  
A. 1,000,000  
B. 999,999  
C. 100,000  
D. 10,000
3. Find the value of  $1,00,000 - 45,678$ .  
A. 54,322  
B. 55,422  
C. 55,322  
D. 54,332
4. Solve:  $78,932 + 6,084 =$  \_\_\_\_\_.  
A. 85,016  
B. 84,916  
C. 85,116  
D. 83,916
5. Multiply  $2,36,842 \times 5 =$  \_\_\_\_\_.  
A. 1,25,000  
B. 11,84,210  
C. 22,89,098  
D. 10,10,564

### SECTION: B

6. Compare with ' $>$ ' or ' $<$ '
  - a) 5,62,745  5,62,754
  - b) 7,89,900  7,89,090
7. Complete the pattern:  
8,75,400; 8,75,500; 8,75,600; \_\_\_\_\_; \_\_\_\_\_.
8. Find the difference between the place value and face value of 6 of the number 7,86,574.

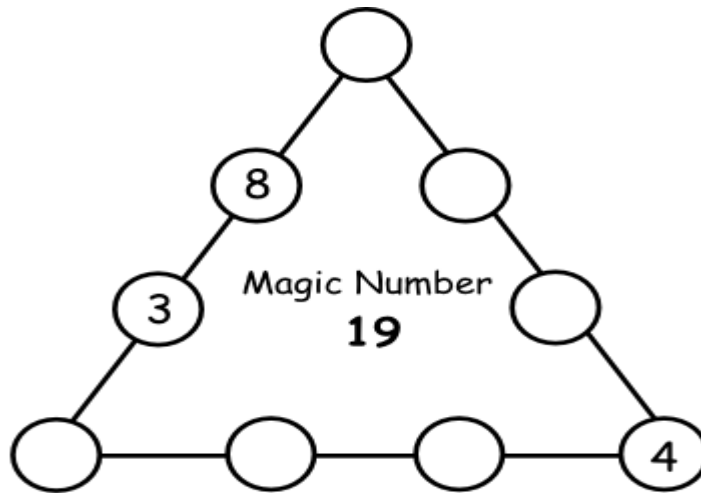
### SECTION: C

9. Riya has Rs.7,45,000 in her bank account. She withdrew Rs.1,98,325 for school fees and Rs.1,52,670 for books. How much money is left in her account?



10. A fruit seller sold 1,53,489 apples in the first week and 1,65,326 apples in the second week. How many apples did he sell in both weeks together?

11. Complete the magic box.



12. Arrange the numbers in descending order:

a) 4,56,789; 56,789; 4,65,789; 5,89,453; 56,879

b) Express the number 7, 89,405 in expanded form in two different ways.

#### SECTION – D

13. Form the greatest and smallest 6-digit number using the digits 3, 7, 3, 5, 8 and 6 (no repetition allowed). Also write the number name in words.

Project Work :



Create a circular chart with numbers arranged in a spiral, focusing on multiplication facts for a specific number



## **SUBJECT-SCIENCE**

- Prepare the clay model of different types beaks of bird and answer the following questions in your lab activity copy.
  1. Which type of beak is best suited for tearing flesh?
  2. Name a bird having sifting beak.
  3. Name two birds of prey.

**SUBJECT : SOCIAL SCIENCE**

Q.NO.	QUESTION
1.	 <p>Identify this popular Dance</p>
2.	<p><b>Choose the correct option:-</b></p> <p>(A) The holy book of the Parsis is-----</p> <p>i) Zend Avesta. ii) The Bible. iii) The Upanishads. iv) The Puranas.</p> <p>(B) Onam is the harvest festival of -----</p> <p>I) Odisha ii) Assam iii) Mizoram iv) Kerala</p>
3.	<p><b>Solve the puzzles:-</b></p> <p>a) Your paternal grandparents' only son is your _____.</p> <p>b) He is your mother's nephew, but is your _____.</p> <p>c) She has the same parents; she is your _____.</p>
4.	<p>List three moral values that are important for one and all.</p>
5.	 <p>Identify the artform.</p>
6.	<p>Complete the web chart:-</p> <div><div><div></div><div>Telangana</div></div><div><div>These South Indian states Celebrate Navratri as Bommai Kolu</div><div></div></div><div><div></div><div></div></div></div>

7.	<p><b>Read the passage and answer the following questions:</b></p> <p>Sudha Chandran is a Bharatanatyam dancer. She is famous for her inspiring story of overcoming adversity and her talent in both dance and acting. She has performed internationally and received numerous awards, including the Padma Shri in 2008. She is known for her work in films and television; she has received the Special Jury National Film Award for her role in Mayuri, a film based on her life story. Particularly, her journey of overcoming a life-altering accident and continuing her passion for dance has made her an inspiration to many.</p> <p>Answer the following questions:</p> <p>i) Who is Sudha Chandran?</p> <p>ii) Mention the film based on her life.</p> <p>iii) Identify the award received by her in 2008.</p>
8.	Write your full name by using the letters of the Sign Language.
9.	Mention three steps to develop sensitivity towards others .
10.	State the different dishes of Onasadya.
	<p><b>Map Activity</b></p> <p><b>On an Outline Political Map of India, locate and colour the following places:</b></p> <p>i. The Union Territory where Angad's Uncle has been transferred.</p> <p>ii. The State which is famous for Ganesh Chaturthi.</p> <p>iii. The State where Dibrugarh is situated.</p> <p>iv. The State in North India where Dussehra is celebrated.</p> <p>v. The State which is famous for the Onam Festival.</p> <p><b>Note: Index must be prepared.</b></p>